


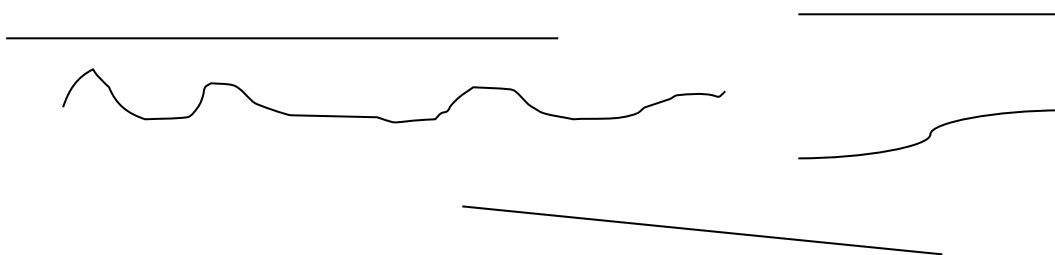
INVESTICE DO ROZVOJE VZDĚLÁVÁNÍ

Geometrie – Bod, úsečka, přímka

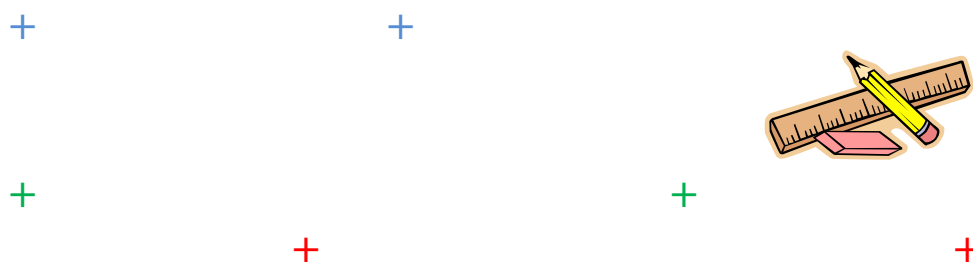
1. Označ body libovolnými velkými písmeny:



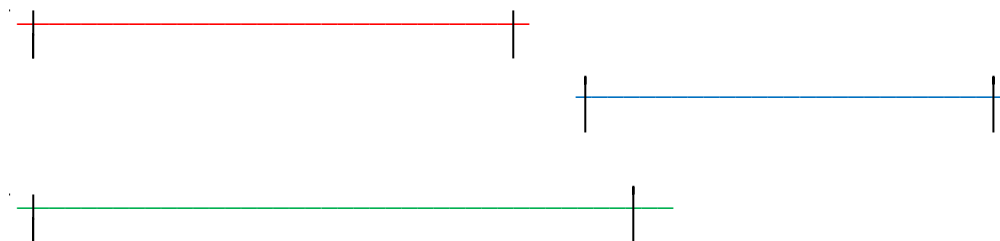
2. Červeně označ rovnou čáru, modrou vyznač křivou čáru:



2. Spoj body a označ úsečku AB, OP, KL:



3. označ krajní body úseček a seřaď je podle velikosti:



4. Vybarvi okénko se správným značením úseček:

AB	cd	Op	p
CD	KL	m	MN

5. Změř úsečky a zapiš jejich délku v cm:



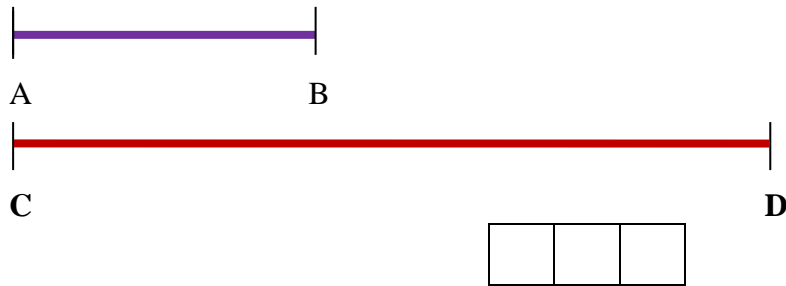
6. Narýsuj úsečky $AB = 7\text{cm}$, $CD = 5\text{cm}$

7. Narýsuj přímku a označ ji malým písmenem p:

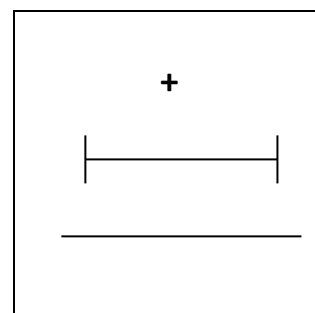
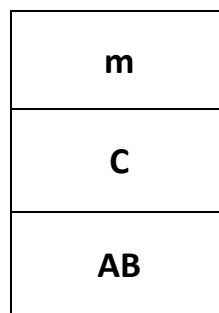
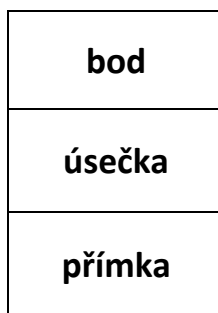
PAMATUJ!
Úsečka je ohraničená dvěma krajními body.
Přímka nemá žádný krajní bod.

8. Narýsuj úsečky $OP = 9\text{cm}$, $MN = 6\text{cm}$, $KL = 3\text{cm}$. Nejdelší vyznač červeně a nejkratší vyznač modře.

9. Porovnej úsečky AB a CD a doplň znaménko nerovnosti:



10. Spoj správné kartičky:



11. Urči geometrický útvar na obrázku:



a/ úsečka

b/ bod

c/ přímka

12. Uspořádej délky úseček od nejkratší po nejdelší a označ je číslicí 1 až 4:



PAMATUJ!
Krajní body úsečky se
značí tiskacími
písmeny velké abecedy

13. Narýsuj úsečku $AB = 5\text{cm}$, $CD = 4\text{cm}$, $KL = 8\text{cm}$:

13. Zhodnot' svoji práci:

velmi dobře



přidej



dnes se ti to nepovedlo



Zdroje obrázků: galerie klipart MS Word